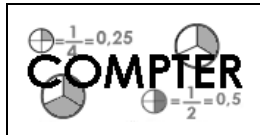


Prénom :

Date :



NUMÉRATION

Les fractions (05)

1./ Complète en chiffres ou en lettres les nombres suivants :

trois quarts

⇔

$\frac{3}{4}$

$\frac{5}{8}$

⇔

cinq huitièmes

.....

⇔

$\frac{8}{2}$

.....

⇔

six quarts

.....

⇔

$\frac{9}{6}$

.....

⇔

trente-cinq dixièmes

.....

⇔

$\frac{7}{10}$

.....

⇔

trente cinquantièmes

.....

⇔

$\frac{25}{3}$

.....

⇔

soixante-cinq centièmes

.....

⇔

$\frac{75}{100}$

.....

⇔

soixante cinq-centièmes

.....

⇔

$\frac{54}{2}$

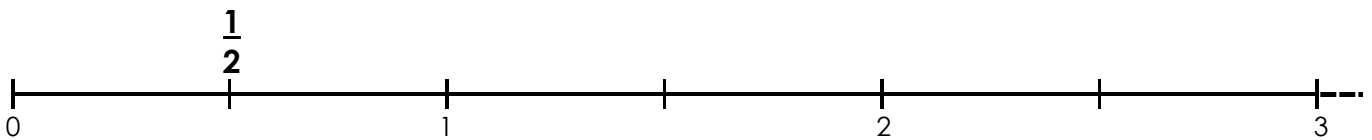
.....

⇔

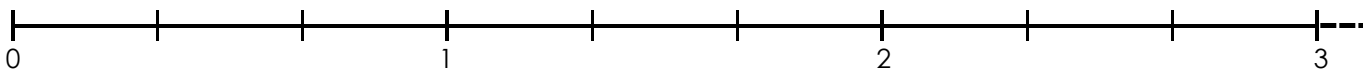
dix tiers

2./ Place sur les axes gradués les nombres donnés :

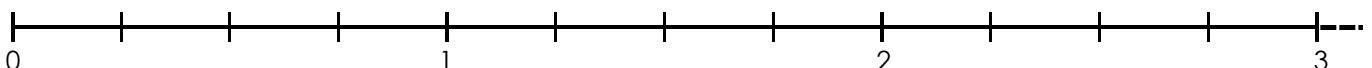
• $\frac{1}{2}$; $\frac{3}{2}$; $\frac{4}{2}$; $\frac{5}{2}$



• $\frac{2}{3}$; $\frac{4}{3}$; $\frac{6}{3}$; $\frac{8}{3}$



• $\frac{1}{4}$; $\frac{3}{4}$; $\frac{7}{4}$; $\frac{10}{4}$



• $\frac{3}{2}$; $\frac{5}{4}$; $\frac{14}{8}$; $\frac{25}{10}$

